

7

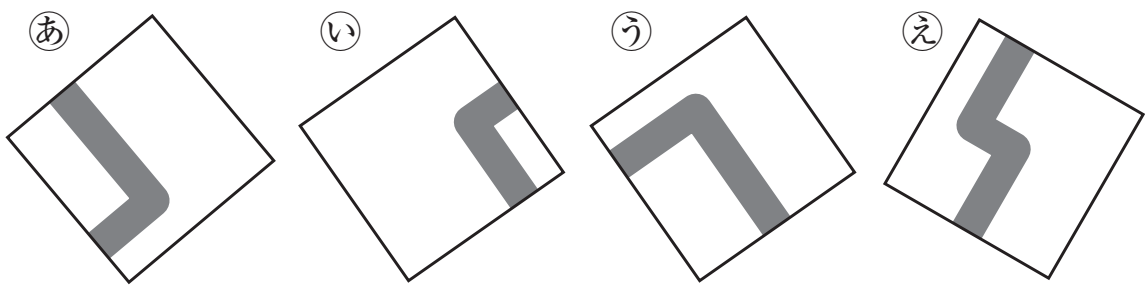
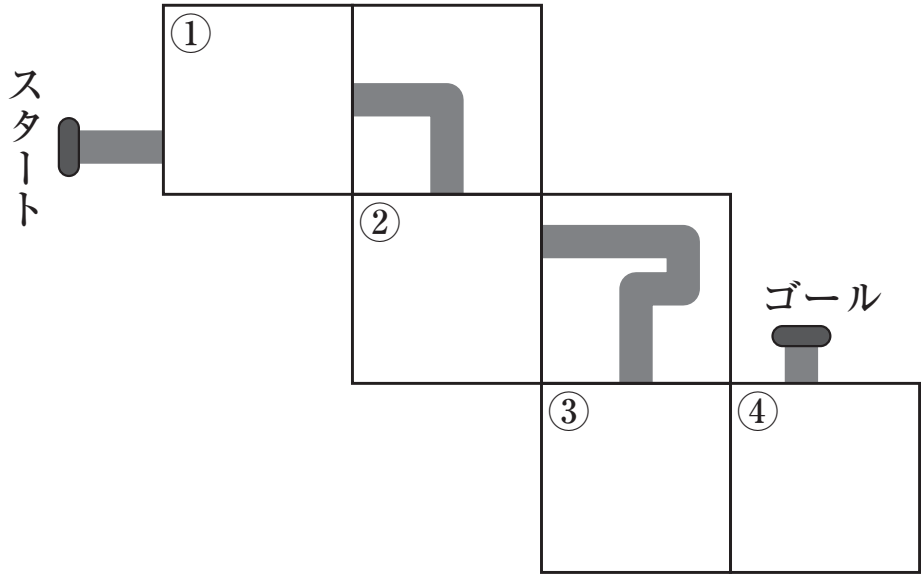
すいどう 水道かんのカード

内容 

思考力  

した ず すいどう
 下の図の水道かんがスタートからゴールまでうまくつながり、水が流れるようにします。①～④の□に入るカードを、次のあ～えの中からそれぞれえらび、記号で答えなさい。

ただし、カードはまわして、向きをかえることができるものとします。



答え	①…
	②…
	③…
	④…

12

す 住んでいる町 まち

内容 論
~~~~~  
思考力 筋

ゆみさん、かなさん、さくらさんは、<sup>ひがし</sup>東町、<sup>にし</sup>西町、<sup>きた</sup>北町のどこかに<sup>す</sup>住んでいて、<sup>おな</sup>同じ町に<sup>まち</sup>住んでいる人は<sup>す</sup>いません。<sup>ひと</sup>次のヒントから、<sup>つぎ</sup>3人が<sup>にん</sup>住んでいる<sup>まち</sup>町をそれぞれ<sup>こた</sup>答えなさい。

### <ヒント>

- ① ゆみさんは<sup>ひがし</sup>東町に<sup>す</sup>住んでいません。
- ② かなさんが<sup>す</sup>住んでいるのは、<sup>ひがし</sup>東町でも<sup>きた</sup>北町でもありません。

|    |        |
|----|--------|
| 答え | ゆみさん…  |
|    | かなさん…  |
|    | さくらさん… |

# 26

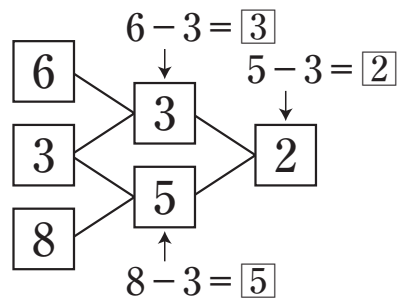
## ひき算ざん

内容 **数**  
~~~~~  
思考力 **情**

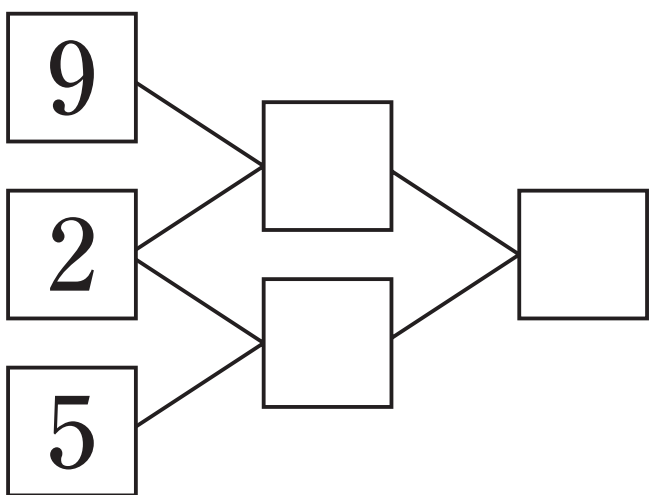
右の(れい)のように、2つの数の大きいほうから小さいほうをひいた答えを右の□に書いていきます。

次の(1)、(2)の□にあてはまる1けたの数を書き入れなさい。

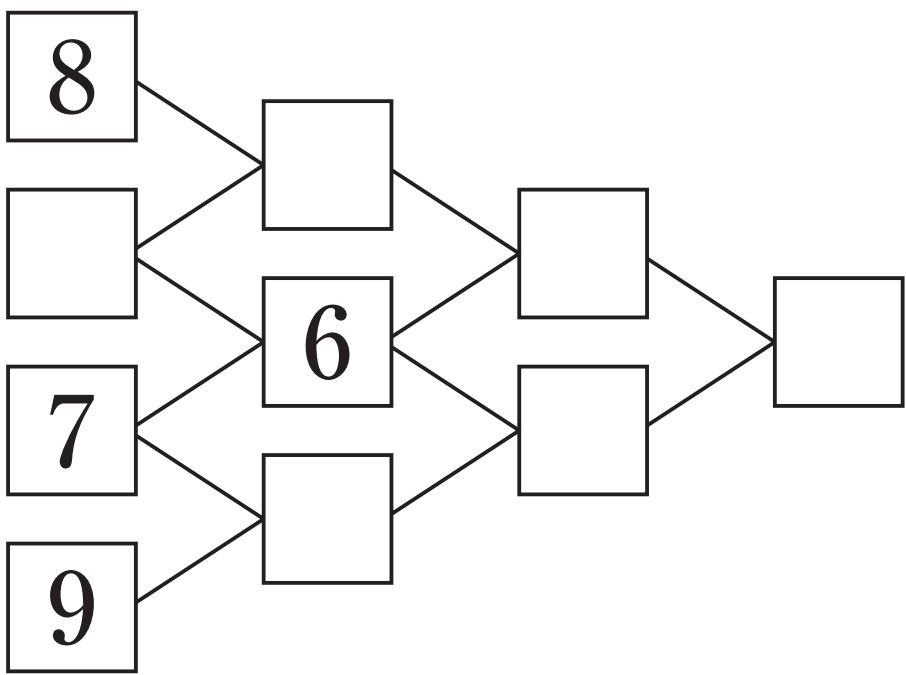
(れい)



(1)



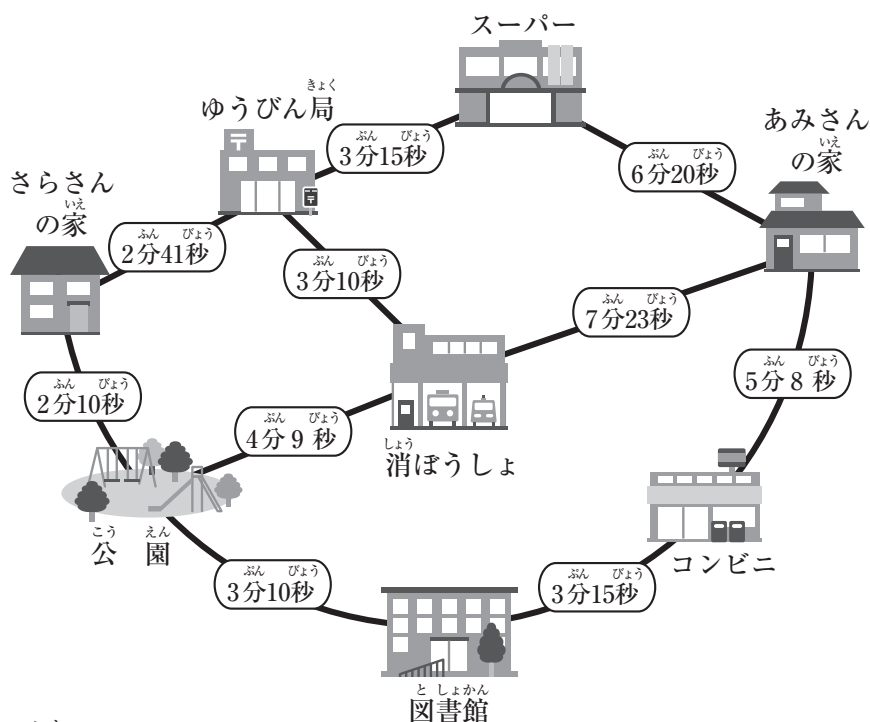
(2)



35

みち
道じゅん内容 思考力  

下の図は、さらさんの家とあみさんの家のまわりの地図です。この地図には、それぞれの場所からとなりの場所まで歩いて行くのにかかる時間が書かれています。



次の問いに答えなさい。

- (1) あみさんの家から、コンビニ、図書館、公園を、さらさんの家まで歩いて行くのにかかる時間を答えなさい。

答え

- (2) さらさんの家から、あみさんの家まで歩いて行くのに、いちばん早く、12分16秒かかります。どのように行けばよいですか。

たとえば、さらさんの家→公園→図書館→コンビニ→あみさんの家のよう
に書きなさい。

答え

16

かけ算カード

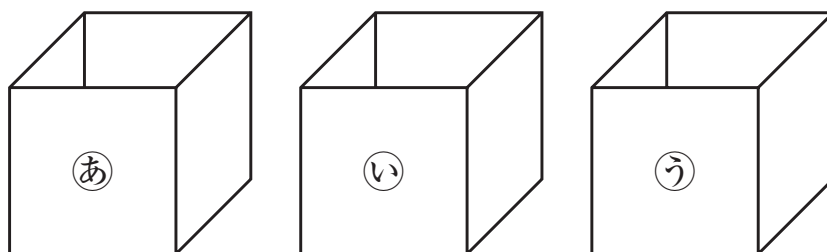
内容 思考力  

つぎ 次のようなかけ算カードが20まいあります。

5×2	3×9	1×3	9×6	6×4
2×4	9×8	6×8	5×5	4×3
4×9	6×6	7×2	3×2	7×9
6×2	1×8	4×4	8×5	6×5

かけ算の答えによって、下ののように3つの箱に分けます。

- ①の箱には、答えが1から20までのカードを入れます。
 ②の箱には、答えが21から40までのカードを入れます。
 ③の箱には、答えが41から81までのカードを入れます。

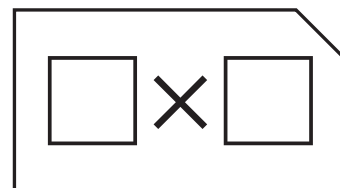


つぎ 次の問いに答えなさい。

- (1) ①, ②, ③の箱にはそれぞれ何まいのカードが入りますか。

答え	①の箱…	②の箱…	③の箱…
----	------	------	------

- (2) ①の箱に入ったカードのうち、答えがいちばん大きいカードを取り出します。このカードの答えと同じ答えになるように、□に1けたの数を書き入れて、20まいに入っていないカードを作りなさい。




30

せいくらべ

内容 **変**

思考力 **情**

かなたさん、すずさん、なおとさんの3人が、かいだんでせいくらべをしたら、次の図のようになりました。



つぎとこた 次の問いに答えなさい。

(1) かなたさんとすずさんのせの高さは、どちらが何cm高いですか。

答え

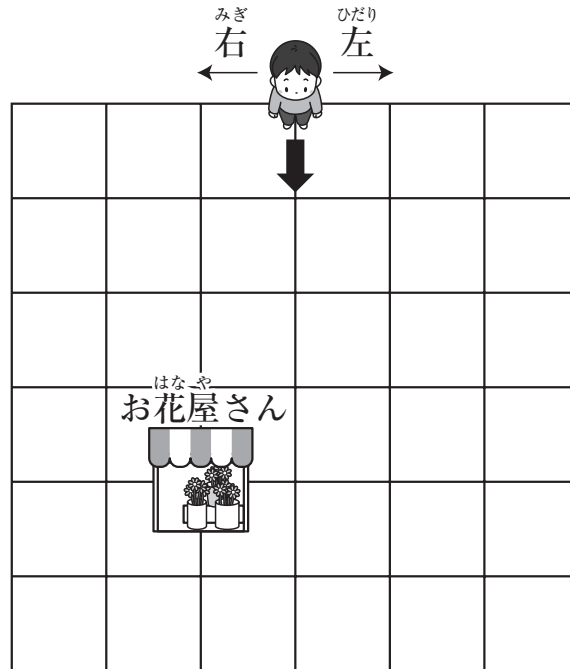
(2) なおとさんは、かなたさんより7cmせが高いです。なおとさんが立っているだんは、すずさんが立っているだんより何cm高いですか。

答え

31

ち ず
地図①内容 **テ**思考力 **筋**

いま、男の子は下の地図の場所にいます。



男の子は、いまいる場所から、お花屋さんへ下のようないき方で行きます。

ア～ウに「左」、「右」や数字を書き入れなさい。

男の子は、矢じるし(↓)の向きに真っ直ぐ進んで、次の角をアに曲がり、2つ目の角をイに曲がり、ウつ目の角を左に曲がると、次の角のところにお花屋さんがあります。

答え

ア…

イ…

ウ…


12

さいころの数字

内容 思考力  

さくらさんが、下の図のように6つのさいころをおきました。☆の部分の、2つのさいころがくっついている面の数をたすと、8になります。さくらさんが見えている面は、左からじゅんに、

1 3 2 です。



はやとさんが見えている面の数字は何ですか。はやとさんから見て左からじゅんに、□に数字を書き入れなさい。ただし、さいころは、向かい合う面の数をたすと7になるようにつくられています。

答え

--	--	--