



たしてもだめなら、ひいてみな。

レベルチェック
レベル 1
やさしい

問題2 たそうかな、ひこうかな

○の中に+か-を入れて、正しい式にしなさい。

(1) $1 \bigcirc 2 \bigcirc 3 = 6$

(2) $2 \bigcirc 1 \bigcirc 3 = 4$

(3) $3 \bigcirc 1 \bigcirc 2 = 2$

(4) $4 \bigcirc 2 \bigcirc 2 = 0$

(5) $6 \bigcirc 2 \bigcirc 4 = 0$



答え

式の○の中に書き入れる。

さらにもう1問

下の○の中に1から10までの数字を1つずつ入れて、式をかんせいさせなさい。

$\bigcirc + \bigcirc = 11$

$\bigcirc + \bigcirc = 11$

$\bigcirc + \bigcirc = 11$

$\bigcirc + \bigcirc = 11$

$\bigcirc + \bigcirc = 11$

この問題をとくカギは…

わからなかったら、左がわの○の中に+を入れて、ためしてみよう。




前へならえ、なおれ、気をつけ。

レベルチェック
レベル
2
ふつう

問題5 みんなでならぼう

クラスのみんながたてに1列にならびました。
よしおさんの前にも後ろにも同じ人数の人がならんでいます。
いちばん後ろにならんだしげるさんの前の10人目に、よしおさんがならんでいます。
クラスはみんなで何人いますか。



答え

人

さらにもう1問

クラスのみんながたてに1列にならびました。
なお子さんの後ろには12人ならんでいます。
とも子さんの前には15人ならんでいます。
なお子さんはとも子さんより前にいて、なお子さんととも子さんの間には3人の人がいます。
クラスはみんなで何人いますか。

人

この問題をとくカギは…

よしおさんをかぞえわすれないようにね。

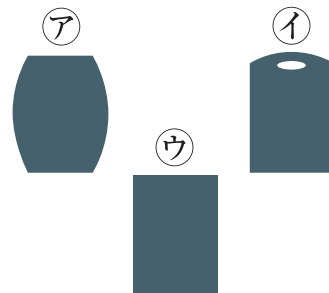

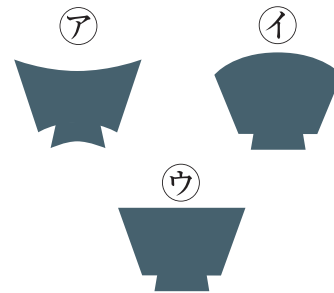




レベルチェック
レベル 1
やさしい

問題8 かげをさがそう

下の図のように、ま横から光をあてました。正しいかげの形をえらんで、記号で答えなさい。



答え	(1)
	(2)

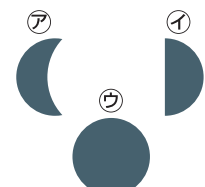



この問題をとくカギは...

おわんやトイレットペーパーをま横から見ると、どんな形かな。

さらにもう1問

ボールに、ま横から光をあてました。正しいかげの形をえらんで、記号で答えなさい。



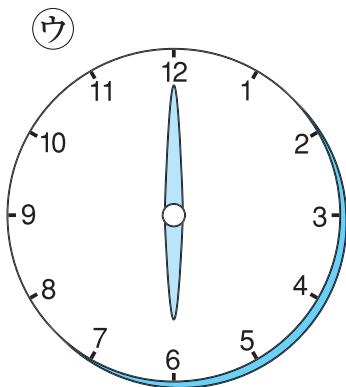
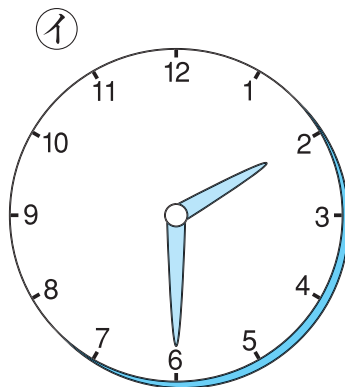
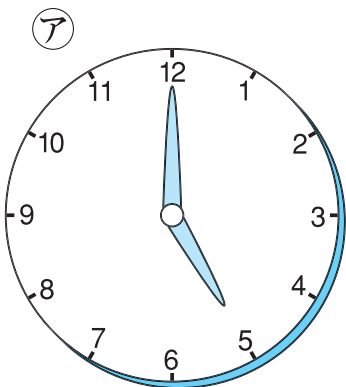
こんな時計じゃこまるよね。こわれた時計はなおしましょう。

レベルチェック
レベル 1
やさしい

問題9

とけい
こわれた時計

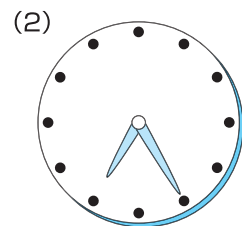
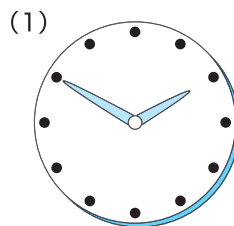
下のア, イ, ウの3つの時計のうち、1つだけこわれています。どの時計ですか。ア~ウの記号で答えなさい。



答え

さらにもう1問

下の(1), (2)のように、1~12の数字がない時計がこころがっています。それぞれの時計は何時をさしていますか。



(1) 時 (2) 時

この問題をとくカギは...

1時間で、長いはりみじかと短いながはりはどれだけ動くのかな？



頭までもぐったんだね。
苦しくないのかな？

レベルチェック
レベル **2**
ふつう

問題8

プール



てつやさん、ちか子さん、たろうさんの3人の兄弟が、お父さんが作ってくれた小さなプールに2人ずついっしょに入り、水にもぐりました。

てつやさんとちか子さんが、いっしょにもぐったときの水は図の㉗の深さでした。


ちかさんとたろうさんが、いっしょにもぐったときの水は図の㉘の深さでした。

たろうさんとてつやさんが、いっしょにもぐったときの水は図の㉙の深さでした。


下の問いに答えなさい。



㉗



㉘



㉙

- (1) 3人の中でいちばん体が大きいのはだれですか。
- (2) 3人の中でいちばん体が小さいのはだれですか。

この問題をとくカギは…

体が大きいほど水が深くなるね。



答え

(1)

(2)