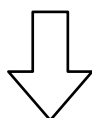
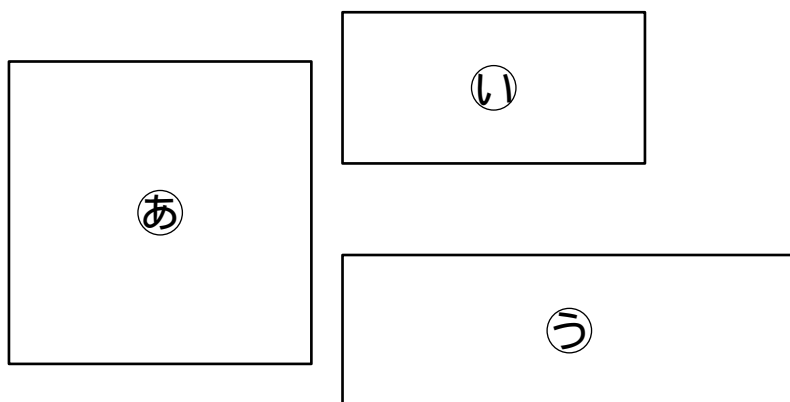


問題 5

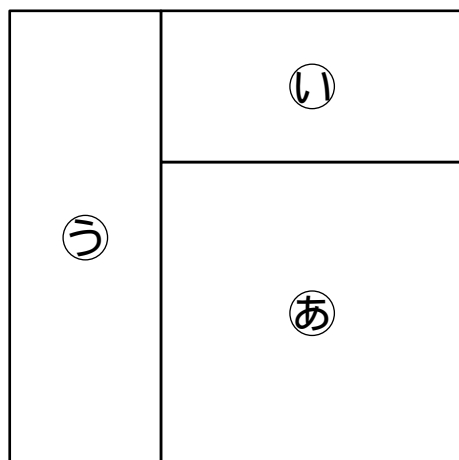
大きい正方形

下の㉞の正方形の紙と、㉟、㊱の長方形の紙を合わせて、大きい正方形を作りました。㉟の長方形の面積は 32cm^2 、㊱の長方形の面積は 48cm^2 です。

大きい正方形の面積は何 cm^2 ですか。ただし、大きい正方形を作るとき、紙はどれも重ねないで、また、すきまもないものとします。



大きい正方形



解答